

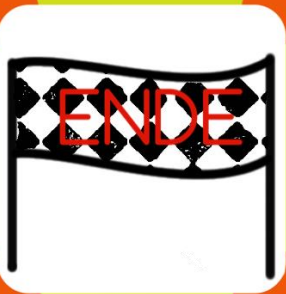


# Rechendomino

Schneide die Kärtchen aus und bringe sie in die richtige Reihenfolge!

 <p>START</p>  <p>© A. Rehm</p>	$2 \cdot 4 =$	60	$9 \cdot 2 =$
35	$7 \cdot 4 =$	8	$5 \cdot 5 =$
18	$5 \cdot 4 =$	30	$6 \cdot 2 =$
25	$3 \cdot 10 =$	12	$7 \cdot 5 =$
28	$6 \cdot 10 =$	20	 <p>ENDE</p>